

NOM: _____

(Poseu el nom i contesteu cada pregunta en el seu lloc reservat. Expliciteu i justifiqueu els passos en les respostes).

Problema B4.

1) (2,5 punts) La implementació d'e-status en l'assignatura PE ha millorat el rendiment acadèmic dels alumnes que l'utilitzen. Se sap que la proporció d'execucions de problemes no aprovades és del 10%, tot i que s'espera disminuir aquest percentatge. Durant el Q1 del curs 2010-2011 es va prendre una mostra de 115 execucions i es va observar que en 10 execucions no es va aconseguir l'aprovat. Hi ha evidència de canvi en la proporció de problemes aprovats? Per respondre plantegeu una PS.

- (0,5 punts) Hipòtesi (i indicar si la prova és bilateral o unilateral):

$H_0: \pi = 0,10$ (unilateral, a l'esquerra)

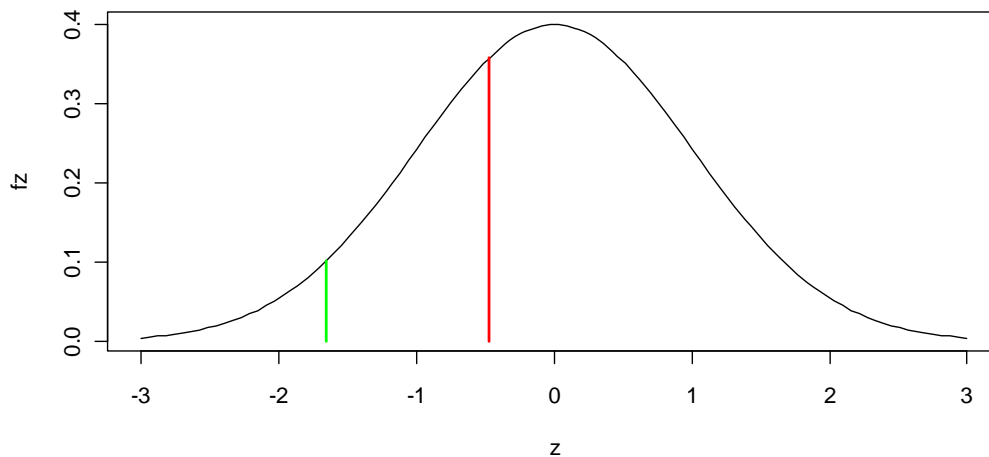
- (0,5 punts) Càlcul del valor de l'estadístic:

$$z = (0,087 - 0,10) / \sqrt{0,10(1 - 0,10)/115} = -0,01304348 / 0,0293441 = -0,47$$

- (0,5 punts) Càlcul del P-valor:

pvalor = 0,3205174

- (0,5 punts) Representeu gràficament el valor obtingut i el punt crític sobre la distribució de l'estadístic:



- (0,5 punts) Decisió de la PS i interpretació:

No hi ha evidència per rebutjar la hipòtesi de que la proporció d'execucions en les que no s'aconsegueix l'aprovat és 10%.

Per conèixer l'ús que fan els estudiants d'e-status i així avaluar la seva dedicació a l'assignatura es va decidir estudiar el nombre de vegades que els alumnes resolen els problemes del programa durant el quadrimestre. Es va prendre una mostra aleatòria de 20 estudiants i es va registrar el nombre d'execucions de problemes que van realitzar al llarg del curs, obtenint els següents resultats.

$$\sum x = 1228$$

$$\sum x^2 = 86984$$

Si es considera que el nombre d'execucions és una variable amb distribució normal:

2) (1 punt) Amb aquesta mostra calculeu una estimació puntual del nombre mitjà d'execucions realitzades durant el quadrimestre.

$$\hat{\mu} = \bar{x} = 61,4$$

3) (1 punt) Doneu una estimació de l'error de la mitjana o error típic.

$$\text{error tipus} = 24,69264/\text{sqrt}(20) = 5,521441$$

4) (1,5 punts) Estimeu el nombre mitjà d'execucions amb un IC al 90%.

$$61,4 \pm t_{19,0,975} * s/\text{sqrt}(20) = 61,4 \pm 1,729 * 24,69264/\text{sqrt}(20) = [51.85269 , 70.94731]$$

5) (1,5 punts) Un altre aspecte a considerar per a una millor avaluació de l'ús d'e-status és estudiar les variacions en el nombre d'execucions. Obtingui un IC al 95% per a la variància del nombre d'execucions per a la mostra disponible.

$$IC(\sigma^2, 1-\alpha) = (24,69264^2 (20-1)/32,852 , 24,69264^2 (20-1)/8,907)$$

$$IC(\sigma^2, 1-\alpha) = (18.77851^2 , 36.06537^2)$$

6) (2,5 punts) Estudis realitzats en assignatures similars a PE d'altres estudis indiquen que el nombre mitjà d'execucions realitzades en un quadrimestre és de 80. Utilitzeu la mostra disponible per posar a prova amb un CH si els alumnes de PE formen part de la mateixa població que els d'altres estudis (en quant a la mitjana). Preneu $\alpha = 5\%$.

- (0,5 punts) Hipòtesis:

$$H_0: \mu = 80$$

$$H_1: \mu \neq 80$$

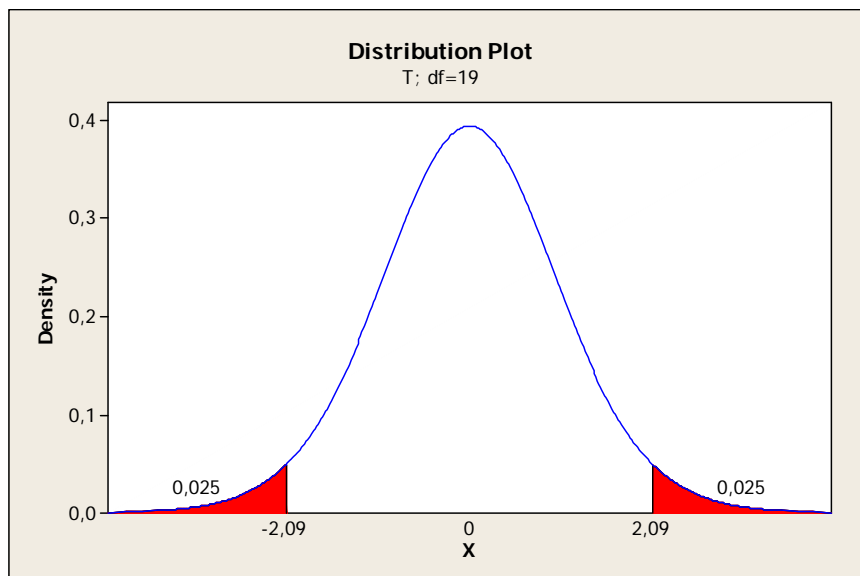
- (0,5 punts) Càlcul del valor de l'estadístic:

$$t = (61,4 - 80) / (24,69264/\text{sqrt}(20)) = -3,3687$$

- (0,5 punts) Quin és el valor que utilitzarà per decidir si l'estadístic anterior permet rebutjar la hipòtesi nul·la?

$$t_{\text{crític}} = 2,093$$

- (0,5 punts) Representeu gràficament el valor obtingut i el punt crític sobre la distribució de l'estadístic.



- (0,5 punts) Decisió del CH i interpretació:

Hi ha suficient evidència per rebutjar la hipòtesis de que el número mig d'execucions en PE és 80.

NOM: _____

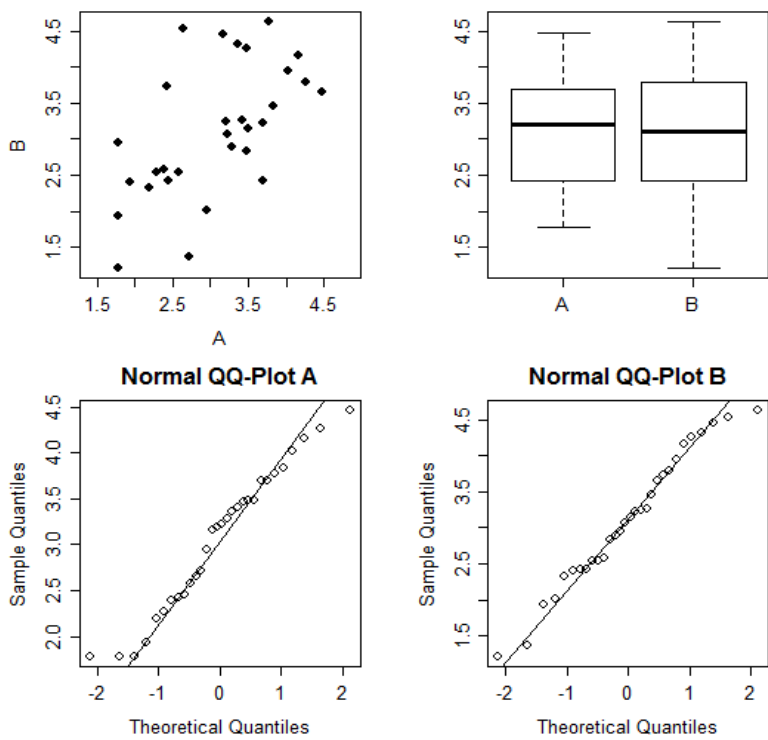
(Poseu el nom i contesteu cada pregunta en el seu lloc reservat. **Expliciteu i justifiqueu els passos en les respostes**).

Problema B5.

Un enginyer informàtic està interessat en la comparació de la eficiència de dos algorismes SortA i SortB per a ordenar vectors amb 10 milions de números reals. Per a tal propòsit, l'enginyer genera 10 milions de números aleatoris, i els ordena amb SortA i SortB dins l'entorn estadístic R, fent servir la funció `system.time` per mesurar el temps d'execució. Les mesures del temps d'execució es repeteixen 30 vegades pels dos algorismes, amb el codi:

```
n <- 30
m <- 10000000
A <- NULL
B <- NULL
for (i in 1:n) {
  z <- rnorm(m)
  a <- system.time(SortA(z))
  A <- c(A,a[3])
  b <- system.time(SortB(z))
  B <- c(B,b[3])
}
D <- B-A
```

La funció `system.time` retorna una estructura amb 3 elements, essent el tercer element el temps (en segons) gastat per la execució corresponent. Amb les dades obtingudes, l'enginyer fa estadística descriptiva gràfica i numèrica, obtenint els resultats a continuació.



Descriptiva gràfica

Descriptiva numèrica

	N	Mean	Variance
A	30	3.063	0.608
B	30	3.108	0.843
D	30	0.045	0.604

- (1p) El disseny emprat en aquest estudi és de dues mostres independents o de dades aparellades? Argumenteu la resposta.

És un disseny de dades aparellades. Els dos algorismes s'apliquen sempre a un mateix joc de dades. En un disseny amb dades aparellades s'espera una correlació entre el temps emprat pels dos algorismes, i aquesta correlació efectivament s'observa en el diagrama bivariant B versus A.

2. (3p) Feu el contrast de hipòtesi $H_0: \mu_A = \mu_B$ versus $H_1: \mu_A \neq \mu_B$, detallant el càlcul de l'estadístic utilitzat, i indicant la seva distribució de referència, premisses del contrast, la regla de decisió, el P-valor (encara que sigui aproximadament) i la decisió.

$$H_0: \delta = \mu_B - \mu_A = 0$$

$$H_1: \delta \neq 0$$

$$d = \bar{x}_B - \bar{x}_A = 3.108 - 3.063 = 0.045$$

$$T = \frac{d}{\frac{s_d}{\sqrt{n}}} = \frac{\sqrt{30} \cdot 0.045}{\sqrt{0.604}} = 0.317$$

Distribució de referència: t_{29}

Premisses: observacions (aquí diferències) independents, normalitat de les diferències (per a n petit).

$$T < T_{29;0.975} = 2.045 \quad \text{no refusem } H_0.$$

$$\text{valor } p = 2 \cdot P(T_{29} > 0.317) = 2 \cdot 0.377 = 0.754$$

(es pot aproximar per la Normal: valor $p \approx 2 \cdot P(Z > 0.32) = 0.749$)

Valor $p \gg 0.05$, no refusem H_0 .

3. (2p) Feu un interval de confiança de 95% per a la diferència en eficiència entre els dos algorismes. Doneu una interpretació del interval obtingut.

$$IC(\delta) = \bar{x}_B - \bar{x}_A \pm t_{n-1} \frac{s_d}{\sqrt{n}} = 0.045 \pm 2.045 \frac{\sqrt{0.604}}{\sqrt{30}} = (-0.245; 0.335)$$

El valor 0 es troba dins el interval, i per tant no es refusa la H_0 . Amb un confiança del 95%, el valor de δ es troba entre -0.245 i 0.335. Si l'experiment es repetís moltes vegades, en 95% dels casos el interval contindria el valor de δ .

4. (2p) Podem considerar que l'ordre de les execucions és aleatori? Si haguéssiu de fer l'experiment vosaltres mateixos, ho faríeu tal com s'ha fet o diferent? Argumenteu la resposta.

Sistemàticament s'executa algorisme A abans que B en cada iteració, produint una cadena d'execucions A-B-A-B-A, etc. Aquest ordre no és aleatori. Es podria considerar aleatoritzar l'ordre del les execucions.

5. (2p) Hi ha correlació entre el temps de les execucions fetes amb A i B? Raoneu la resposta, i calculeu el coeficient de correlació mostral entre les variables A i B.

Sí, es veu al gràfic de les observacions A vs B, i es lògic, pel Disney utilitzat.

$$V(D) = V(A) + V(B) - 2Cov(A, B)$$

$$Cov(A, B) = 0.5 \cdot (V(D) - (V(A) + V(B))) = -0.5 \cdot (0.604 - (0.608 + 0.843)) = 0.424$$

$$r(A, B) = \frac{Cov(A, B)}{\sqrt{V(A) \cdot V(B)}} = \frac{0.424}{\sqrt{0.608 \cdot 0.843}} = 0.592 \quad (\text{aquí, } V() \text{ i } Cov() \text{ es refereixen als indicadors mostrals})$$

NOM: _____

(Poseu el nom i contesteu cada pregunta en el seu lloc reservat. Expliciteu i justifiqueu els passos en les respostes).

Problema B6

Es vol estudiar si el temps de CPU (en milisegons) d'un programa ve afectat pel nombre d'operacions d'entrada i sortida (E/S) amb el disc. Es pren una mostra de 7 observacions i s'obtenen les següents dades:

nombre E/S (X)	CPU (Y)
14	2
16	5
27	7
42	9
39	10
50	13
83	20

Amb aquestes dades tenim que:

$$\begin{aligned}\sum X &= 271, \\ \sum X^2 &= 13855, \\ \sum Y &= 66, \\ \sum Y^2 &= 828, \\ \sum XY &= 3375\end{aligned}$$

- a) Calculeu els estimadors de la constant i del pendent de la recta de regressió i representeu gràficament la recta estimada (2 punts)

```
x=c(14,16,27,42,39,50,83)
y=c(2,5,7,9,10,13,20)
n=7
reg=lm(y~x)
summary(reg)
```

Coefficients:

```
              Estimate Std. Error t value Pr(>|t|)
(Intercept) -0.008282   0.831105  -0.01   0.992
x             0.243756   0.018681  13.05 4.72e-05 ***
```

Residual standard error: 1.083 on 5 degrees of freedom

Multiple R-squared: 0.9715, Adjusted R-squared: 0.9658

F-statistic: 170.3 on 1 and 5 DF, p-value: 4.716e-05

En l'estimació dels paràmetres:

```
b1=(n*sum(x*y)-sum(x)*sum(y))/(n*sum(x*x)-(sum(x))^2)
b1= 0.2437564
b0=mean(y)-b1*mean(x)
b0= -0.008282365
```

b) Calculeu la taula de descomposició de la variància (ajut: la variància residual val 1.173) (2 punts)

```
var.resi=1.173
sq.resi=(n-2)*var.resi
sq.resi= 5.865
sq.tot=(n-1)*var(y)
sq.tot= 205.7143
sq.reg=sq.tot-sq.resi
sq.reg= 199.8493
```

Font de variació	SQ	g. de llibertat	SQM
Regressió	199.849	1	199.849
Residual	5.865	5	1.173
Total	205.714	6	34.286

Punts a tenir en compte en aquesta solució:

- Una SUMA DE QUADRATS MAI pot ser negativa, per definició, ja que estem sumant valors als quadrats.
- Fixeu-vos que la variància residual és calcula com $s^2 = \sum e^2 / (n-2)$ i en aquest cas val 1.173 (dada proporcionada a l'enunciat del problema); per tant la $SQ_{Residual} = \sum (y - \hat{y})^2 = \sum e^2 = s^2 * (n-2) = 1.173 * 5 = 5.865$

c) Calculeu i interpreteu el coeficient de determinació R^2 (1 punt)

```
R2=sq.reg/sq.tot
R2= 199.849/205.714 = 0.9715
```

El valor del coeficient de determinació és molt elevat, això ens indica que el 97% de la variabilitat del Temps de CPU està explicada per una relació lineal amb el nombre d'E/S. Les operacions de disc incideixen molt en el temps de CPU

- d) Calculeu el interval de confiança al 95% pel pendent de la recta i poseu a prova si aquest és significatiu. Quines premisses s'han de complir per a que tingui validesa aquesta estimació? (2 punts)

```
s2b1=var.resi/((n-1)*var(x))
s2b1= 0.0003487513
sb1=sqrt(s2b1)= 0.0187
t=b1/sb1
t= 13.05263
```

En aquest cas estem posant a prova la

$$H_0: \beta_1 = 0$$

$$H_1: \beta_1 \neq 0$$

Treballant amb una confiança del 95%, el punt crític que permet rebutjar o no la H_0 és,

```
p=0.975
t=qt(p,df)
t= 2.571
```

Com que $13.053 > 2.571$, rebutgem H_0 , per tant el pendent β_1 és significativament diferent de zero, és a dir, que la X està relacionada linealment amb la Y.

- e) Doneu una previsió, així com el seu interval de confiança al 95%, del valor promig del temps de CPU quan el nombre d'E/S és 30 (2 punts)

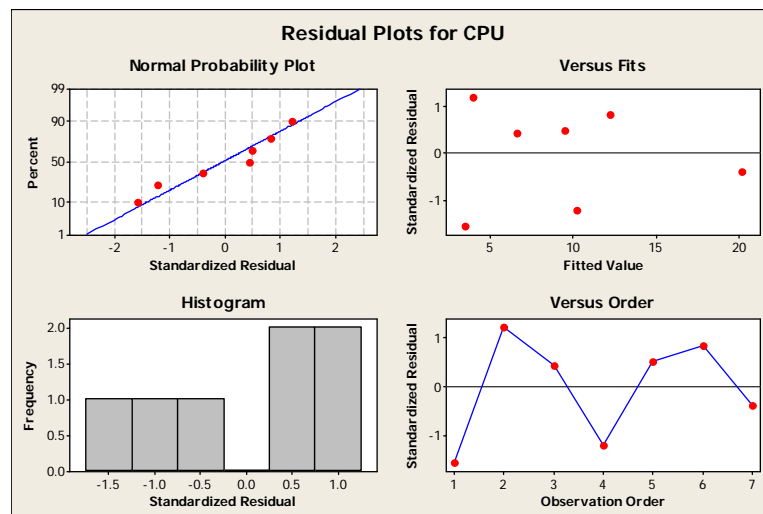
```
xhat=30
yhat=b0+b1*xhat
yhat = 7.304
s2.yhat=var.resi*(1/n+(xhat-mean(x))^2)/((n-1)*var(x))
s2.yhat = 0.026
s.yhat=sqrt(s2.yhat)
s.yhat = 0.163
df=n-2 = 5
p=0.975
t=qt(p,df)= 2.571
ic.sup=yhat+t*s.yhat
ic.inf=yhat-t*s.yhat
```

```
ic=c(ic.inf,ic.sup)
```

```
ic = (6.886, 7.723)
```

En aquest punt és molt IMPORTANT entendre que el que estem calculant és LA VARIÀNCIA DE LA PREVISIÓ i no la variància mostral com alguns estudiants han fet. Sempre que calculem una previsió, aquesta te associada una variabilitat, és a dir la variància d'aquesta previsió.

- f) La següent figura ens mostra les gràfiques dels residus necessàries per poder validar aquest model de regressió. A partir de la inspecció gràfica d'aquestes, dieu quines premisses es verifiquen i si n'hi ha alguna que no. Justifiqueu la vostra resposta. (1 punt)



Finalment, en aquest gràfic, el Normal Probability Plot permet verificar si els residus segueixen una distribució normal i MAI S'HA D'INTERPRETAR COM QUE EXISTEIX RELACIÓ LINEAL ENTRE LES Y I LES X.

Comprovació i Representació gràfica

```
reg=lm(y~x)
```

```
plot(x,y)
```

```
abline(reg,col=2)
```

